




ALUMNO.....

Completa las series.



Compara los números y rodea.

El número mayor

6	3
8	

7	1
5	9

El número menor

4	2
7	

0	5
1	6

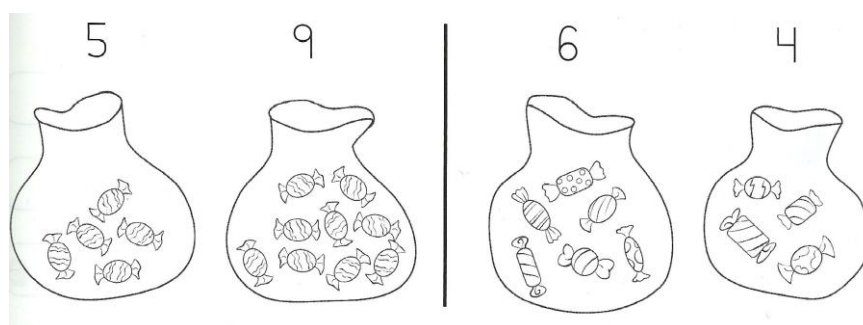
Ordena los números de mayor a menor.

2 3 0	6 4 5	8 1 5	7 3 9 1
<input type="checkbox"/> <input type="checkbox"/> <input type="checkbox"/>	<input type="checkbox"/> <input type="checkbox"/> <input type="checkbox"/>	<input type="checkbox"/> <input type="checkbox"/> <input type="checkbox"/>	<input type="checkbox"/> <input type="checkbox"/> <input type="checkbox"/> <input type="checkbox"/>

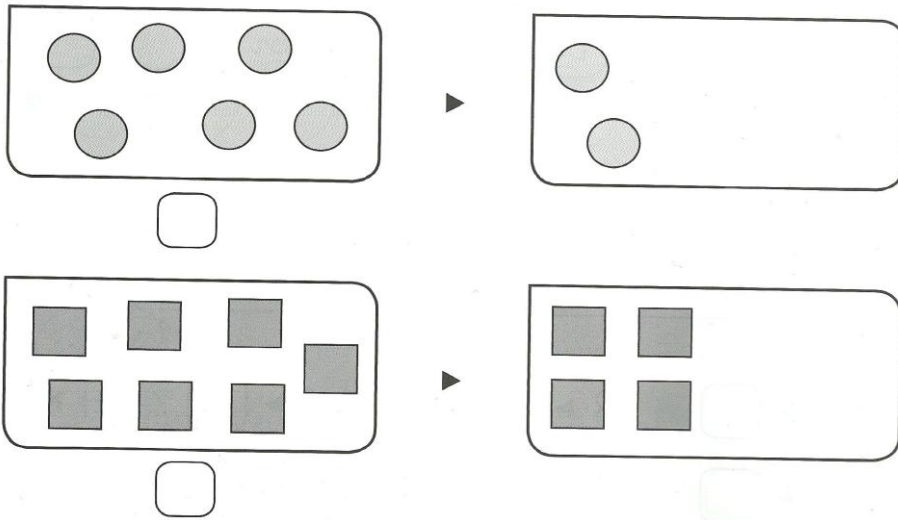
Piensa y escribe.

Un número mayor	Un número menor
2 ▶ <input type="checkbox"/> 3 ▶ <input type="checkbox"/>	1 ▶ <input type="checkbox"/> 4 ▶ <input type="checkbox"/>
7 ▶ <input type="checkbox"/> 8 ▶ <input type="checkbox"/>	6 ▶ <input type="checkbox"/> 9 ▶ <input type="checkbox"/>

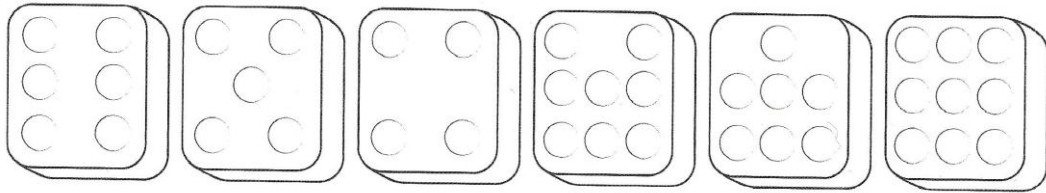
Compara y rodea en casa caso el número menor.



Cuenta y escribe el número. Después, dibuja para que haya la misma cantidad.



Cuenta y une cada ficha con el número correspondiente.



4 5 6 7 8 9

Colorea tantos patitos como corresponda.

